



ВСЕРОССИЙСКАЯ ОЛИМПИАДА ШКОЛЬНИКОВ  
ПО ОБЖ. 2018–2019 уч. г.  
МУНИЦИПАЛЬНЫЙ ЭТАП. 10–11 КЛАССЫ

***Уважаемый участник!***

При выполнении заданий Вам предстоит выполнить определённую работу, которую лучше организовать следующим образом:

- внимательно прочитайте задание;
- если Вы отвечаете на теоретический вопрос или решаете ситуационную задачу, обдумайте и сформулируйте конкретный ответ (ответ должен быть кратким, и его содержание следует вписать в отведённое поле; пишите чётко и разборчиво);
- при ответе на тестовые задания определите верный ответ и обведите кружком букву (буквы), соответствующую(-ие) выбранному Вами ответу.

За каждый правильный ответ Вы можете получить определённое членами жюри количество баллов, не выше указанной максимальной оценки.

Сумма набранных баллов за все решённые вопросы в двух форматах – итог Вашей работы. Максимальное количество баллов – 100.

Задания считаются выполненными, если Вы вовремя сдали их членам жюри.

***Желаем успеха!***

### Тестовые задания

**Определите один правильный ответ.**  
*За правильный ответ начисляется 2 балла.*

1. **В условиях пожара понижение содержания этого газа в воздухе на 3 % ведёт к ухудшению двигательных функций организма.**  
а) водород  
б) кислород  
в) азот  
г) гелий
2. **Верны ли утверждения?**  
**А.** Фламандский узел используется для связывания верёвок одного диаметра.  
**Б.** Фламандский узел быстро развязывается.  
а) верно только А  
б) верно только Б  
в) верны оба утверждения  
г) оба утверждения неверны
3. **Какому режиму деятельности РСЧС соответствует «Проведение при необходимости эвакуационных мероприятий»?**  
а) повышенной готовности  
б) постоянной готовности  
в) усиленной готовности  
г) повседневной деятельности
4. **Определите мероприятие, входящее в полномочия органов исполнительной власти субъектов Российской Федерации.**  
а) подготовка населения в области гражданской обороны  
б) проведение мероприятий по гражданской обороне  
в) проведение эвакуации населения, материальных и культурных ценностей в безопасные районы  
г) мероприятия по поддержанию устойчивого функционирования организаций в военное время
5. **При наличии подтверждённой информации о реальной возможности совершения террористического акта устанавливается**  
а) повышенный уровень опасности  
б) критический уровень опасности  
в) высокий уровень опасности  
г) постоянный уровень опасности

6. **Верны ли приведённые суждения?**  
**А.** Профилактические прививки являются средством специфической профилактики инфекционных заболеваний.  
**Б.** Профилактические прививки создают естественный иммунитет.  
а) верно только А  
б) верно только Б  
в) верны оба суждения  
г) оба суждения неверны
7. **Какое жизнеугрожающее осложнение может развиваться у пострадавшего с синдромом длительного сдавления?**  
а) закрытый перелом костей конечности  
б) вывих костей конечности  
в) острая почечная недостаточность  
г) анафилактический шок
8. **Что является основной военно-административной единицей Российской Федерации?**  
а) территориальный военный округ  
б) военный округ ВС РФ  
в) номерной оборонительный участок  
г) оборонительный округ ВС РФ
9. **Гражданин Российской Федерации может самостоятельно осуществлять в полном объёме свои права и обязанности с**  
а) 20 лет  
б) 16 лет  
в) 14 лет  
г) 18 лет
10. **Верны ли утверждения?**  
**А.** В шеренге военнослужащие размещены один возле другого на одной линии.  
**Б.** Интервалы в шеренге может указывать командир.  
а) верно только А  
б) верно только Б  
в) верны оба утверждения  
г) оба утверждения неверны

**Определите все правильные ответы.**

*За каждый правильный ответ начисляется 2 балла.*

11. **В каких статьях Конституции Российской Федерации закреплены права и обязанности граждан в области охраны окружающей среды?**  
а) ст. 42  
б) ст. 43  
в) ст. 57  
г) ст. 58  
д) ст. 44
12. **Курвиметр предназначен для**  
а) измерения длин отрезков кривых линий на топографических картах  
б) определения направления по азимуту на топографических картах  
в) вычерчивания тушью и карандашом кривых линий на топографических картах  
г) вычерчивания тушью и карандашом окружностей на топографических картах  
д) измерения длин отрезков извилистых линий на топографических картах
13. **Определите целесообразные действия при нахождении на открытом пространстве в бурю.**  
а) в связи с наличием прочной каркасной конструкции занять место на мосту, закрепившись у опоры  
б) укрыться в кювете дороги  
в) лечь в укрытие и плотно прижаться к земле  
г) крепко привязаться к трубопроводу, выступающему из земли  
д) укрыться в разрушенном ранее здании в связи с тем, что неповреждёнными остались наиболее прочные конструкции
14. **Выделите основные принципы защиты населения и территорий от чрезвычайных ситуаций.**  
а) организации максимально возможного количества мероприятий по защите населения и территорий от чрезвычайных ситуаций  
б) необходимой достаточности и максимально возможного использования имеющихся сил и средств  
в) учёта особенностей территорий и степени реальной опасности возникновения чрезвычайных ситуаций  
г) опоры на специально подготовленные аварийно-спасательные формирования МЧС России  
д) ситуационного планирования мероприятий, направленных на защиту от чрезвычайных ситуаций

15. **Что из перечисленного относится к внешним экстремистским угрозам?**
- а) поддержка иностранными государственными органами экстремистских проявлений в Российской Федерации
  - б) ненадлежащий контроль за распространением идей радикализма в информационном пространстве Российской Федерации
  - в) деятельность международных экстремистских организаций
  - г) экстремистская деятельность радикальных общественных объединений
  - д) экстремистская деятельность отдельных лиц
16. **Какими путями реализуется фекально-оральный (желудочно-кишечный) механизм передачи инфекции?**
- а) контактным
  - б) контактно-бытовым
  - в) водным, пищевым
  - г) пылевым
  - д) трансмиссивным
17. **Какие признаки, наблюдаемые у пострадавшего, характерны для острого нарушения мозгового кровообращения (инсульта)?**
- а) побледнение кожи лица
  - б) асимметрия лица
  - в) не может вспомнить своё имя (амнезия)
  - г) не может произнести своё имя (афазия)
  - д) боль за грудиной
18. **Какие из перечисленных родов войск входят в состав Сухопутных войск Российской Федерации?**
- а) войска ПВО-ПРО
  - б) войска радиационной, химической и биологической защиты
  - в) войска связи
  - г) десантно-штурмовые бригады
  - д) мотопехотные войска

19. **От призыва на военную службу освобождаются граждане**
- а) имеющие предусмотренную государственной системой научной аттестации учёную степень
  - б) занятые постоянным уходом за отцом, матерью, женой, родным братом, родной сестрой
  - в) являющиеся опекуном несовершеннолетней родной сестры
  - г) прошедшие военную службу в другом государстве в случаях, предусмотренных международными договорами Российской Федерации
  - д) признанные ограниченно годными к военной службе по состоянию здоровья
20. **Видами маневра подразделений в бою являются**
- а) охват
  - б) оборона
  - в) смена позиций
  - г) наступление
  - д) удар войсками

## Теоретические задания

## Задание 1






Перечислите рекомендации безопасного поведения (не менее 10 пунктов) при общении с незнакомыми людьми.

[illegible]

Максимальная оценка за правильно выполненное задание – **10 баллов**.





## Задание 2

Впишите в таблицу смысловое значение знаков безопасности.

Запрещающий знак	Смысловое значение запрещающего знака
	
	
	
	
	



Всероссийская олимпиада школьников по ОБЖ. 2018–2019 уч. г.  
Муниципальный этап. 10–11 классы

Максимальная оценка за правильно выполненное задание – **10 баллов**.

### Задание 3

Укажите знаком «+» в крайнем левом или крайнем правом столбце, какое стрелковое оружие, изображенно на картинках, принадлежало РККА, а какое вермахту?

РККА	Стрелковое оружие	Вермахт
		
		
		
		
		
		

Максимальная оценка за правильно выполненное задание – **12 баллов**.

#### Задание 4

Установите соответствие между транспортным положением и видом травмы и (или) состоянием пострадавшего: для каждой позиции первого столбца подберите соответствующую позицию из второго столбца.

- |   |  |
|---|--|
| <b>А)</b> Солнечный удар, судороги  | <b>1)</b> Положение на спине с валиками под коленями и головой |
| <b>Б)</b> Травма живота, подозрение на внутреннее кровотечение                            | <b>2)</b> Устойчивое боковое положение                         |
| <b>В)</b> Отсутствие сознания   | <b>3)</b> Положение на спине с приподнятыми на 30–45 см ногами |
| <b>Г)</b> Острая кровопотеря (пульс на запястье не определяется), пострадавший в сознании | <b>4)</b> Возвышенное положение верхней части туловища         |

Результаты внесите в таблицу.

А	Б	В	Г

Максимальная оценка за правильно выполненное задание – 8 баллов.

**Максимум за работу 100 баллов.**