

### Критерии оценивания выполнения олимпиадных заданий

1. Какому историческому событию (процессу) посвящён представленный отрывок?

«На христиан арабы бурей мчатся,  
И молвит Оливье: “Враги пред нами,  
И далеко ушли дружины Карла.  
Когда бы в рог подуть вы пожелали,  
Поспел бы к нам на помощь император...”»

- 1) сражение при Гастингсе
- 2) битва в Ронсевальском ущелье
- 3) сражение при Азенкуре
- 4) битва при Лепанто

2. Прочитайте отрывок из литературного произведения и укажите название произведения.

«Носил он имя Зигфрид и, к славе сердцем рьян,  
Перевидал немало чужих краёв и стран,  
Отвагою и мощью везде дивя людей.  
Ах, сколько он в Бургундии нашёл богатырей!»

- 1) «Песнь о верном Сиде»
- 2) «Песнь о Нибелунгах»
- 3) «Песнь о Роланде»
- 4) Эпос о Гильгамеше

3. Какой термин из представленных связан с политическим устройством Флоренции в Средние века?

- 1) гонфалоньер
- 2) маркиз
- 3) дож
- 4) бургомистр

**Ответы.**

1	2	3
2	2	1

**По 2 балла за каждый верный ответ.**

**Максимум 6 баллов за задания 1–3.**

4. Ниже приведён список названий государств. Укажите те из них, которые были созданы в результате походов крестоносцев.

- 1) Эдесское графство
- 2) Антиохийское княжество
- 3) Лимбургское герцогство

- 4) Конийский султанат
- 5) Иерусалимское королевство
- 6) герцогство Беневенто

**5.** Ниже приведён список названий городов и княжеств Руси. Укажите те из них, которые входили в состав Московского княжества к началу XV века.

- 1) Нижний Новгород
- 2) Торжок
- 3) Галичские и Белозерские земли
- 4) Брянская земля
- 5) Пронское княжество
- 6) Муромская земля

**Ответы.**

4	5
125	136

**По 3 балла за полностью верный ответ на каждое задание; 1 балл за ответ с одной ошибкой (не указан один из верных ответов или наряду со всеми указанными верными ответами приводится один неверный).**

**Максимум 6 баллов за задания 4, 5.**

**6.** Перед Вами перечень событий, произошедших в истории трёх различных государств. Под названиями государств поставьте номера событий, произошедших в их истории.

- 1) завоевание манора Ирландия
- 2) заключение Кальмарской унии
- 3) учреждение швейцарской гвардии для охраны высшего должностного лица этого государства
- 4) правление Иоанна Безземельного
- 5) правление Густава Васы
- 6) крестьянское восстание под предводительством Уота Тайлера
- 7) формирование государства по праву «Константинова дара»
- 8) присоединение Романьи (Равеннского экхархата)
- 9) открытие Упсальского университета

**Ответ.**





Государство	Англия	Швеция	Папская область
Событие	146	259	378

**По 1 баллу за каждое верное соотнесение.**

**Максимум за задание – 9 баллов.**

**7.** Дайте краткое обоснование ряда (что объединяет перечисленные элементы с исторической точки зрения) и укажите, какой из элементов является лишним по данному основанию.

**7.1.**

А) Роспись Успенского собора во Владимире	Б) «Троица»
	
В) Икона «Спас Вседержитель»	Г) Роспись Ферапонтова монастыря
	

**7.2.** Тверское княжество, Ростовское княжество, Ярославское княжество, Московское княжество, Смоленское княжество.

**Ответ.**

**7.1.** Работы Андрея Рублёва. Исключение – Г, роспись Ферапонтова монастыря.

**7.2.** Княжества, образовавшиеся изначально на территории Владимиро-Суздальского княжества. Исключение – Смоленское княжество.

**По 4 балла за каждый верный ответ, из которых 2 – за верно выделенный принцип объединения и 2 – за верно отмеченное исключение.**

**Максимум за задание – 8 баллов.**

8. Что с исторической точки зрения объединяет перечисленные в ряду элементы? Дайте максимально точный ответ.

8.1. 907, 941, 944, 970–971.

8.2. Михаил Ярославич, Дмитрий Грозные Очи, Михаил Александрович, Михаил Борисович.

**Ответ.**

8.1. Походы русских князей на Византию.

8.2. Тверские князья.

**По 3 балла за каждый верный ответ.**

**Максимум за задание – 6 баллов.**

9. Расположите события в хронологической последовательности. Ответы внесите в таблицу.

А) «Литовщина»

Б) присоединение Новгорода к Москве

В) смерть митрополита Феофота

Г) окончание Столетней войны

Д) открытие Америки Христофором Колумбом

Е) тверское восстание

**Ответ.**

1	2	3	4	5	6
Е	В	А	Г	Б	Д

**5 баллов за полностью верную последовательность; 2 балла за последовательность с одной ошибкой (т. е. верная последовательность восстанавливается путём перестановки любых двух символов); 0 баллов, если допущено более одной ошибки.**

**Максимум за задание – 5 баллов.**

10. Вашему вниманию представлены фрагменты из юмористической книги «Всеобщая история, обработанная Сатириконом» (1910 г.). Прочитайте отрывки и вставьте в таблицу пропущенные в тексте имена, названия.

А) «Сын Генриха Птицелова, [имя правителя (1)], окончательно победил венгров. Чтобы как-нибудь оправдать эпитет “Великий”, он присоединил к своим владениям северную Италию и принял императорскую корону. В Риме тогда папствовал очень неприятный папа Иоанн XII. Он даже толком короны не мог держать. Он уволил его без прошения, и его преемник возложил на него корону [название государства (2)]. Таким образом, буквально повторилась история с коронованием Карла Великого».

Б) «На Католаунской равнине (Шампань) прошла битва народов, и он [имя вождя (3)] принужден был повернуть обратно за Рейн. Здесь, возвращаясь

по той же дороге, он пожалел о своем афоризме насчет травы<sup>1</sup>, так как лошадям надо же было чем-нибудь кормиться».

В) «Светская власть [церковный сан (4)] увеличивалась изо дня в день. Григорий Великий, “раб рабов Божьих” (Servus servorum Die) – особенно заботился о возвышении папского престола. Он так ревностно распространял христианство, где только мог».

Г) «В Галлии в эпоху падения Западной Римской империи самым сильным народом были франки. Их конунг [имя конунга (5)] положил основание могущественной франкской монархии. Это вообще была очень примечательная личность, и, живи он в наш век, он, без сомнения, был бы одним из выдающихся певцов Европы. Сила его голоса была изумительна: в битве с аллеманами, когда неприятель начал брать верх, он таким зычным голосом дал обет креститься в случае победы, что его услышало не только небо, но и множество галло-римских туземцев-христиан, бывших в его войске».

**Ответ.**

№	Вставка
1	Оттон I Великий
2	Римская Империя
3	Атилла
4	Римский папа
5	Хлодвиг

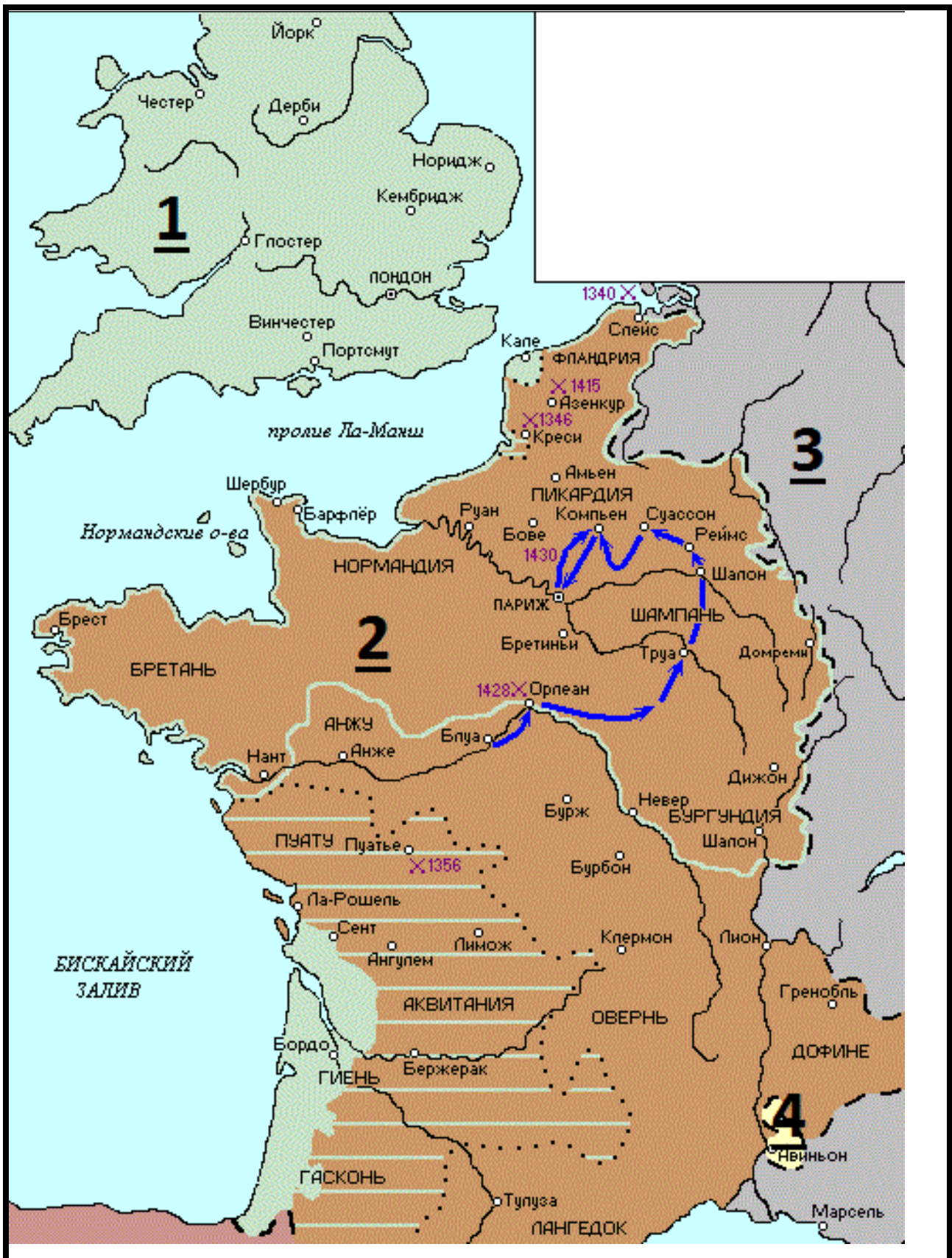
**По 2 балла за каждую вставку.**

**Максимум за задание – 10 баллов.**

---

<sup>1</sup> «Трава не должна расти там, где ступит мой конь»

**11.** Внимательно рассмотрите схему и выполните предложенные задания.



**11.1.** Назовите государство, территория которого обозначена на схеме цифрой «1».

**11.2.** Укажите название войны, события которой отображены на территории государства, обозначенного на схеме цифрой «2». Укажите годы этой войны.

**11.3.** Назовите государство, территория которого обозначена на схеме цифрой «3».

**11.4.** Назовите национальную героиню государства, обозначенного на схеме цифрой «2», деятельность которой связана с событиями, обозначенными на карте.

**11.5.** Укажите, какой известный процесс происходил в тот же период, когда происходила война, событиям которой посвящена схема, в течение 69 лет на территории области, обозначенной на схеме цифрой «4».

**Ответ.**

**11.1.** Англия (2 балла).

**11.2.** Столетняя война, 1337–1453 гг. (4 балла за полностью верный ответ, 2 балла за ответ без указания периода войны).

**11.3.** Священная Римская империя (2 балла).

**11.4.** Жанна д'Арк (2 балла).

**11.5.** Авиньонское пленение пап (2 балла).

**Максимум за задание – 12 баллов.**

**12.** Перед Вами изображения трёх русских правителей Российского государства и изображения трёх русских церковных деятелей. Ваша задача – назвать их и сопоставить современников.

**Правители**

1)



2)



3)



**Церковные деятели:**

А)



Б)



В)



Запишите в таблицу имена правителей в хронологической последовательности их деятельности. Сопоставьте имена правителей с изображением современника – церковного деятеля: впишите буквенное обозначение изображения церковного деятеля – современника каждого правителя в соответствующие графы таблицы, назовите имена церковных деятелей.

Номер изображения правителя	Имя правителя (указывается в хронологической последовательности)	Буквенное обозначение изображения церковного деятеля	Имя церковного деятеля
3	Дмитрий Донской	А	Митрополит Алексей
1	Владимир Мономах	Б	Нестор летописец
2	Иван III	В	Нил Сорский

**4 балла за каждую верно заполненную строку. 2 балла за строку с одной ошибкой. 1 балл за верную хронологическую последовательность. Максимум за задание – 13 баллов.**

**13.** Прочитайте отрывок из исторического источника выполните задания.

«Царь же и великий князь всея Руси с великой любовью и неизречённой радостью встречает патриарха Иеремию. Потом благочестивый царь и великий князь всея Руси намерение своё царское изъявляет, да поставит патриарх Иеремия в богохранимой державе Великой России патриарха по правилам святых апостолов и святых отцов. Выслушав намерение благочестивого царя, патриарх был весьма удивлён тем, сколь велико царское стремление к благочестию, и стал размышлять, как бы возвести на престол Русской митрополии патриарха, ибо по заветам святых апостолов и заповедям святых отцов надлежит быть только четырём вселенским патриархам: в Великой Антиохии, в Иерусалиме, в Константинополе и в Александрии; пятый же патриарх – это папа в Риме. Зная, что римский папа много лет тому назад от благочестия отступил и от истинной христианской веры отпал, памятуя также, что ныне царственным градом Константина владеют неверные и что они ненавидят благочестивую веру и повсюду её преследуют; убедившись, что в Великой России издревле процветает неколебимое православие, как солнце, на тверди небесной сияющее; особенно же узрев неизречённую красоту знаменитейшего храма Успения Божией Матери, осмотрев почитаемые златокованные гробницы, в которых, как некое многоценное сокровище, покоятся великие чудотворцы, русские митрополиты Пётр, Алексей и Иона; увидев в благочестивом царе и великом князе всея Руси сердечное усердие и веру в Бога и великое прилежание и неустанное попечение о благоденствии всех благочестивых народов, исповедующих православное христианство, патриарх Иеремия, подивившись всему этому, воздав хвалу всемогущему Богу и возложив упование на милость от превеликих его щедрот, поставляет в Великой России на Русскую митрополию патриарха – тогдашнего митрополита Иова.

**13.1.** Когда произошла встреча русского царя и патриарха, описанная в отрывке? Укажите год.

**13.2.** Назовите русского царя, упоминаемого в отрывке. Из какой династии русских правителей он происходил?

**13.3.** Как автор текста объясняет, почему патриарх Иеремия согласился на доводы русского царя? Укажите две причины.

**13.4.** О каком событии автор написал: «...римский папа много лет тому назад <...> от истинной христианской веры отпал»? Когда произошло это событие?

**13.5.** Какие известные иерархи русской церкви упоминаются в тексте? Укажите трёх из них, отметив время их деятельности с точностью до половины века.

**Ответы.**

**13.1.** 1589 г. (2 балла).

**13.2.** Фёдор Иоаннович (2 балла). Рюриковичи (2 балла)

**13.3.** 1) благочестие русского царя.

2) То обстоятельство, что в «Великой России издревле процветает неколебимое православие», т. е. приверженность православию в государстве.

**По 2 балла за каждую названную причину. Всего 4 балла.**

**13.4. Великая Схизма (2 балла), 1054 г. (2 балла).**

**13.5. 1) митрополит Пётр (первая половина XIV века)**

**2) митрополит Алексей (вторая половина XIV века)**

**3) митрополит Иона (середина – вторая половина XV века)**

**По 2 балла за каждого приведённого иерарха с указанием периода деятельности. По 1 баллу без указания периода. Всего 6 баллов.**

**Максимум за задание – 20 баллов.**

**Максимум за работу – 95 баллов.**